



Subject :- Sindhi (Std. 5th)

ستيت ڪائونسل آف ايجوڪيشنل ريسرچ اينڊ ٽريننگ، مهاراشٽر، ڀونڀي،

NIPUN BHARAT: تحت - بنيادي ٻولي خواندگي امتحان 2022-2023

وشيہ : ٻولي (پسگردائي آڀياس - ۱) درجو : پنجون



شاگردن لاءِ عام هدايتون


۱. گهريل تصوير - لفظن جا ڪارڊ آڱهه ۾ تيار ڪيا وڃن.
۲. جتي به ضروري هجي شاگردن کي پيراگراف پڙهي ٻڌائجي.
۳. جيڪڏهن لکت ۾ جواب وٺو آهي ته ان کي شاگردن جي نوت بڪ ۾ درج ڪيو وڃي.
۴. جيڪڏهن شاگردن کي سوال - تصوير سمجھڻ ۾ ڏکيائي ٿي ته اُستاد کي مناسب سمجھائي ڏيڻ گهرجي.

سوال - (۱) نمبر سکيا جا نتيجا :


سکيا وٺندڙ آس پاس جي ماحول جي گلن، پاڙن ۽ ميون جون خاصيتون (مثال طور، شڪل، رنگ، خوشبوءَ جتي اُهي وڌندا آهن ۽ بي بيون واسٽو رکندڙ ڳالهيون) سڃاڻو ٿو. سکيا وٺندڙ پکين ۽ جانورن جون آڱهه خاصيتون سڃاڻي ٿو. جهڙوڪ چونچ ڏند، پنجا، ڪن، وار، آڪيرو، جانورن ۽ پکين جا گهر. وغيره.

سوال - (۱) هيٺين مان ڪهڙو جانور آنا ڏئي ٿو پر ٻڌايو:

۱. جانور جزو ڪهڙو سڃاڻو



۲. هيٺ ڏنل تصويرن جي صحيح ترتيب بيان ڪريو.



NIPUN BHARAT تحت: بنيادي ٻولي خواندگي امتحان 2022-2023 - درجو پنجون: وشيہ پسگردائي آڀياس 1

۳. آنا ڏيندڙ ۽ ٻارن کي جنم ڏيندڙ ۾ ورهايو  
هاڻي، بدڪ، شيلي، جهرڪي، ٻلي، ڪرڻي

موليانڪن لاءِ روبريڪس

نمبر	روبريڪس	گريڊ
۱.	سڀني ٽن سوالن جو جواب صحيح ڏنو ويو.	۳
۲.	ڪن به ٻن سوالن جو جواب صحيح ڏنو ويو	۲
۳.	ڪنهن به هڪ سوال جو جواب صحيح ڏنو ويو	۱
۴.	ڪنهن به سوال جو جواب صحيح نه ڏنو ويو	۰

گهربل جواب

۱. ڪڪڙ ۲. تتلي ۽ ڪيتر پلر  
(۳) ۱. آنا ۲. لاروا (۳) ٻوپا (۴) بالغ تتلي

۴. آنا ڏيندڙ - بدڪ، جهرڪي، ڪرڻي  
ٻارن کي جنم ڏيندڙ : هاڻي، ٻڪري، ٻلي

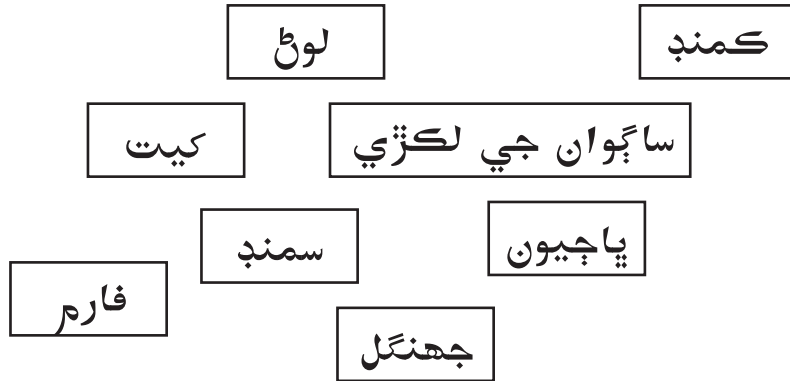
سڪيا جا نتيجا نمبر - ۲ :

سڪندڙ روزاني ضرورتن (مثال طور کاڌو، پاڻي، ڪپڙا)، جهڙيون شين جي ذريعن کان گهرن تائين  
ڪيئن نهي پهچن ٿيون اهو سگهي ٿو.

سوال : هيٺين سوالن جا جواب ٻڌايو:

(۱) ليمي جو شربت ٺاهڻ لاءِ هيٺين مان ڪهڙن پدارتن جي ضرورت آهي..  
(ڪنڊ، تيل، هيڊ، مصالا، ليمو، بصر، لوڻ، پاڻي)  
(۲) هيٺيان پدارت ۾ سي پدارت ڪٿان حاصل ٿين ٿا انهن جا جوڙا ملايو.

اُستادن لاءِ هدايتون: ڏنل لفظن جا ڪارڊ تيار ڪريو ۽ شاگردن کي ڪارڊن جي جوڙي ملائڻ لاءِ چئو.



هيٺين تصويرن کي سلسلي وار ٺاهي لکو.

اُستادن لاءِ هدايتون: ڏنل تصويرن جا ڪارڊ ٺاهي ڪري شاگردن کي سلسلي وار ٺاهي رکڻ لاءِ چئو.



(۴) ڪڙڪ جو ڪڙڪ جي پوري کان فلڪي تائين سفر بيان ڪيو.

گهربل جواب :

(۱) پاڻي، کنڊ، ليمون، لوڻ

(۲) لوڻ - سمنڊ، ڪمنڊ، کيت، فارم، پاڇيون - کيت - فارم، ساڳوان جي لڪڙي، جهنگم

(۳) کيت ۾ هل هلائڻ، بج پوکڻ، فصل پوکڻ، فصل ڪيڻ، فصل چڻڻ، پوتي ۾ ڀرڻ

(۴) اناج (ڪڙڪ) کي چونڊڻ، ڪڙڪ کي صاف ڪرڻ (اٽو) ڪڙڪ پيٽاهڻ، اٽو ڳوٺڻ، اٽي جو گردو تيار ڪرڻ، گولي کي ويلڻ، فلڪو پچائڻ انهن ڏاڪن جو شامل هئڻ گهرجي.

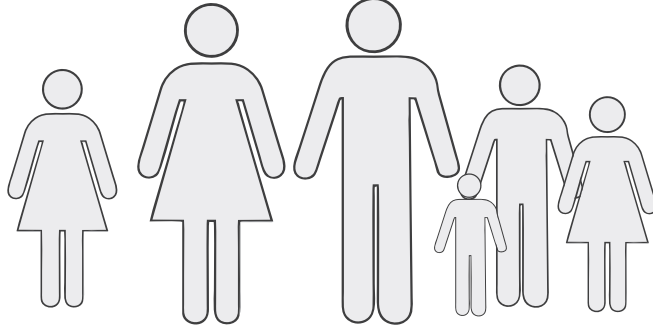
موليانڪن لاءِ روبريڪس

نمبر	روبريڪس	گريڊ
۱.	سڀني ٽن سوالن جو جواب صحيح ڏنو ويو.	۳
۲.	ڪن به ٻن سوالن جو جواب صحيح ڏنو ويو	۲
۳.	ڪنهن به هڪ سوال جو جواب صحيح ڏنو ويو	۱
۴.	ڪنهن به سوال جو جواب صحيح نه ڏنو ويو	۰

سکيا جا نتيجا نمبر - ۳ : سکيا وندڙ جانورن جي گروهه، جانورن جي گروهه جو گروهه ۾ هلت چلت (مثال چيتي) مدومڪي، هاڻي، پکين جو آکيرو ٺاهڻ) جو ورڻن ڪن ٿا. خاندان ۾ (مثال جنم وٺڻ) شادي، بدلي وغيره سبب ڏيندڙ بدل سمجھائڻ.

### اُستادن لاءِ هدايتون:

۱. پهريائين اُستاد هيٺ ڏنل پيراگراف (ٽڪر) شاگردن کي پڙهي ٻڌائي ۽ هيٺ ڏنل سوال پڇي



رمييش ۽ راڌا جو هڪ خوشگوار خاندان هو. رمييش کي پونر ۽ راهول ٻه ٻار هئا. پونر پنهنجي تعليم پوري ري نوڪري لاءِ آمريڪا ويئي هئي. راهول به تعليم پوري ڪري پنهنجو ڪاروبار شروع ڪيو. آخرڪار راهول جي شادي سوينا سان ٿي. ان درميان رمييش جي پيءُ جي وڏي عمر ۾ موت ٿي وئي. ان سبب رمييش ڏاڍو اداس رهڻ لڳو. پر راهول جي ٻار جي اچڻ سان رمييش جي گهر ۾ وري خوشيون ڄاڻجڻي وڃون.

۱. رمييش جي خاندان ۾ شروع ۾ ڪيترا ماڻهو هئا؟

۲. ڇا رمييش جي خاندان ۾ ماڻهو جو تعداد سائين ساڳيو رهيو.

۳. ڇا سماج جي ٻين خاندانن ۾ ماڻهن جو تعداد به رمييش جي خاندانن جي ماڻهن وانگر گهٽجندو وڌندو رهي ٿو؟

۴. رمييش جي خاندان ۾ ماڻهن جو تعداد ڪهڙي سبب تبديل ٿيو؟

### موليانڪن لاءِ روبريڪس

نمبر	روبريڪس گريد
۱.	سڀني ٽن سوالن جو جواب صحيح ڏنو ويو.
۲.	ڪن به ٻن سوالن جو جواب صحيح ڏنو ويو
۳.	ڪنهن به هڪ سوال جو جواب صحيح ڏنو ويو
۴.	ڪنهن به سوال جو جواب صحيح نه ڏنو ويو

گهربل جواب (۱) چھ (رمیش، راڌا، پونر، راهول، سویتا، رمیش جو بابا)


(۲) نه

(۳) ها

(۴) لڏپلاڻ، شادي، چمڻ ۽ موت

سکيا جا نتيجا نمبر - ۴: سکيا وفندڙ جانورن، پکين، ٻوٽن، شين، بيگار شين ۽ پدارتن جا گروهه ناهي ٿو. (مثال ظاهري شڪل اڳڻ، استعمال وغيره).

هيٺ ڏنل تصويرن ۾ ڏيکاريل ميون جي مشهور جڳهين جا نالا ڏيو.



(۲) مهيني ۾ انهن مهيني ۾ ٿيندڙ پسگردائي جي گهٽتاءَ جا جوڙا ملايو.

اُستادن لاءِ هدايتون: ڏنل تصويرون جا ڪارڊ تيار ڪري شاگردن کي جوڙيون ملائڻ لاءِ چئو.

گرمي محسوس ٿيڻ  
لڳي ٿي ڪوئل پکي جو  
دور آواز ٻڌڻ ۾ اچي ٿو

فيبروري

بازار ۾ انب، ڪٽيرو،  
فنس، چمو ۽ ڪروندا  
اچن ٿا بازار ۾ اچڻ شروع  
ٿين ٿا

مارچ

آسمان ۾ سڀني پاسي  
ڪارا بادل اچن ٿا

آپريل - مئي

جون

ٿڌ گهٽجڻ شروع  
ٿئي ٿي

سوار جي برسات جي مند ۾ ٻاهر گهمڻ وڃڻ چاهي ٿي ان کي ڪهڙيون سوچنائون ڏيندا.

موليانڪن لاءِ روبريڪس

نمبر	روبريڪس	گريڊ
۱.	سڀني ٽن سوالن جو جواب صحيح ڏنو ويو.	۳
۲.	ڪن به ٻن سوالن جو جواب صحيح ڏنو ويو	۲
۳.	ڪنهن به هڪ سوال جو جواب صحيح ڏنو ويو	۱
۴.	ڪنهن به سوال جو جواب صحيح نه ڏنو ويو	۰

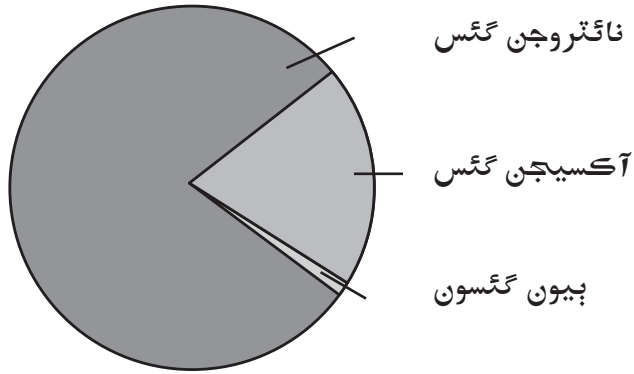
گهربل جواب:

- (۱) چيڪو - گهولوڙو، انب - ڪونڪن، ديوگلو، رتناگيري وغيره.  
ڪيلا - جلتانو، انگور ناسڪ نارنگي ناگپور، سڪلي - وسئي
- (۲) فيبروري - ٿڌ گهٽجڻ شروع ٿئي ٿي  
مارچ - گرمي محسوس ٿيڻ لڳي ٿي، ڪوئل پکي جو مدور آواز ٻڌڻ ۾ اچي ٿو.  
آپريل مئي: بازار ۾ انب ۽ هنڌاڻا اچڻ شروع ٿين ٿا.  
جون: آسمان ۾ سڀني پاسي ڪارا بادل اچن ٿا. بازار ۾ چمو ڪٽيرو ۽ ڪروندا اچن ٿا.
- (۳) چتيا کڻي وڃو، برساتي ڪوٽ پائي وڃو، برساتي بوت پائي وڃو کاڌي جا پدارت هوا بند  
دٻي ۾ کڻي وڃو، پيئڻ جو پاڻي کڻي وڃو ترڪڻ واري جاءِ تي سنڀالي پير رکو. سڀني  
سان گڏ رهو. انهن مان ڪنهن به صحيح جواب تي غور ڪيو وڃي.

سکيا جا نتيجا نمبر - ۵: سکيا وندڙ معياري ۽ مقامي يونتن ۾ خاصيتن جو آندازو لڳائي ٿو (مثال طور ڪلو، گز، پاڻو وغيره) حقيقتن جي فرق ڪري ٿو ۽ آندازي مطابق مقامي مقدار (ڊگهائي وزن، عرصو، وقت) بابت اڳڪٿي ڪري ٿو.

اُستادن لاءِ هدايتون: هيٺ ڏنل تصوير ڏيکاريو ۽ شاگردن کان هيٺيان سوال پيو.

هيٺ ڏنل تصوير جي مدد سان هوا ۾ موجود جزن جو تناسب ڏيکاريو ويو آهي ان تي غور ڪريو ۽ پڇيل سوالن جو جواب ڏيو



- (۱) هوا ڪيترن ئي گئسن جي ملاوت آهي ڇا توهان کي اهو لڳي ٿو؟ توهان ائين چو ٿا سوچيو؟
- (۲) هوا ۾ سڀ کان وڌيڪ ڪهڙي گئس حصو والاري ٿي؟
- (۳) ڇا اهو بيان درست آهي ته ڪل هوا جو پنجون حصو آڪسيجن آهي؟
- (۴) ڇا آڪسيجن ساهه کڻڻ ۽ ٻرڻ لاءِ مفيد آهي؟

گهربل جواب:

- (۱) ڇاڪاڻ ته هوا آڪسيجن، نائٽروجن ۽ ٻين ڪيترن ئي گئسن جي ملاوت آهي.
- (۲) نائٽروجن
- (۳) ها
- (۴) ها

موليانڪن لاءِ روبريڪس

نمبر	روبريڪس گريڊ
۱.	سڀني ٽن سوالن جو جواب صحيح ڏنو ويو.
۲.	ڪن به ٻن سوالن جو جواب صحيح ڏنو ويو
۳.	ڪنهن به هڪ سوال جو جواب صحيح ڏنو ويو
۴.	ڪنهن به سوال جو جواب صحيح نه ڏنو ويو

•••